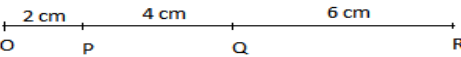
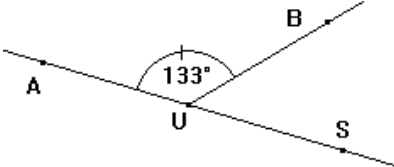
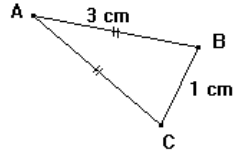
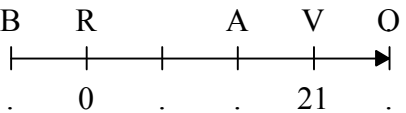


	Enoncé	Réponse	Jury
1	Vrai ou Faux ? $7 \times 9 = 56$		
2	Quel est le plus grand ? $8 \times 6$ ou $9 \times 5$		
3	Déjà 15h30 min ! Voilà 2h15min que Camille attend ! A quelle heure est-elle arrivée ?		
4	$101 \times 100 =$		
5	Le triple de 15 c'est ?		
6	Compléter le calcul par le bon nombre :	$47 + \dots = 70$	
7	 Quelle est la distance entre le point P et le point R ?		
8	Inférieur ou Supérieur ? 100cl et 100 dl		
9	Compléter le calcul par le bon nombre :	$9 \times \dots = 54$	
10	La moitié de 38 c'est ?		

	Enoncé	Réponse	Jury				
11	$99 \times 14 =$						
12	6 min =	... h					
13	Quel est le nombre qui convient dans $3 \times \dots = 7$ ? Entoure la bonne réponse :	$\frac{7,3}{7}$ $\frac{7}{3}$ ni l'un ni l'autre					
14	Écris le nombre manquant dans ce tableau de proportionnalité :	<table border="1" data-bbox="1668 470 1960 574"> <tr> <td>...</td> <td>21</td> </tr> <tr> <td>5</td> <td>15</td> </tr> </table>	...	21	5	15	
...	21						
5	15						
15	$28 \times 1,5 =$						
16	 $\widehat{BUS} = \dots$						
17	Place la virgule pour que 5 soit le chiffre des millièmes :	4 5 6					
18	Le nombre 213 Coche la ou les bonne(s) réponse(s)	<input type="checkbox"/> est divisible par 2. <input type="checkbox"/> est divisible par 3. <input type="checkbox"/> est divisible par 5.					
19	0,5 km =	... m					
20	 $AC = \dots$						

	Enoncé	Réponse	Jury
21	Combien fait les deux tiers de 963€ ?	... €	
22	Quelle est la valeur arrondie de 12,57 à 0,1 près ?		
23	$1,2 \times 5 + 15 \times 1,2 =$		
24	Un carré a une aire de 36 cm <sup>2</sup> . Quelle est la longueur d'un côté ?		
25	$21 \text{ dm}^2 =$	... m <sup>2</sup>	
26	Quelle est l'abscisse de B ? 		
27	Le quart de 0,6 est :		
28	$21\text{h}12\text{min} - 3\text{h}34\text{min} =$		
29	1 kg de riz coûte 1 200 Ar, combien coûtent 2,5 kg de riz ?		
30	$\frac{2}{3} + \frac{9}{18} + \frac{4}{6} - \frac{3}{2} =$		

Nom : ..... Prénom : .....

Classe : 5<sup>e</sup>.....

Établissement :  
.....

Note : ...../30

L'épreuve comporte 30 questions. **Les calculatrices sont interdites.**

Durée : **7 minutes.**

Écrire votre nom, prénom et classe sur cette feuille et attendre le signal de départ.



**MADAGASCAR - COMORES**  
**Test 2 - 21-22 janvier 2012**